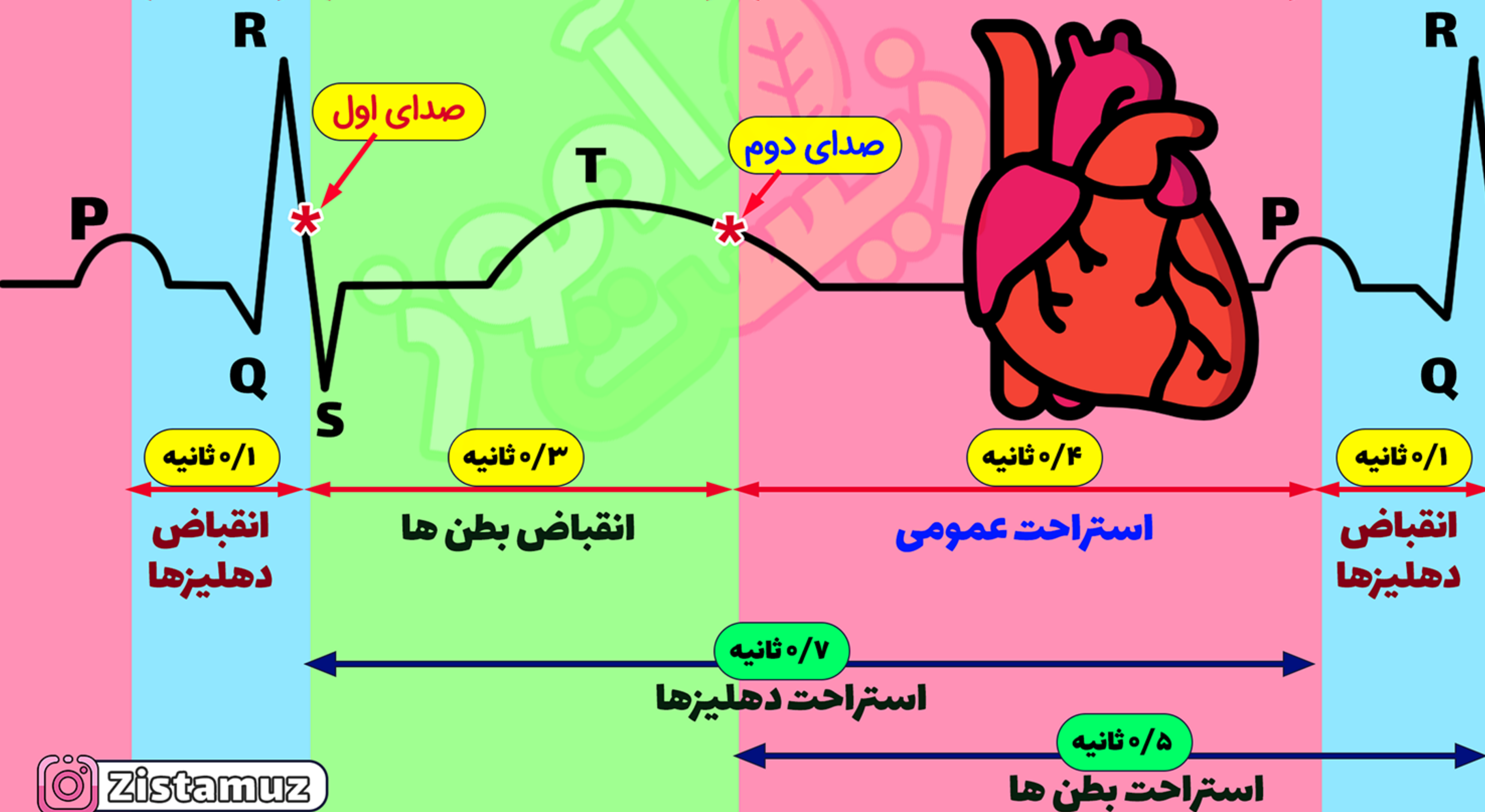


نوار قلب

سینی بسته

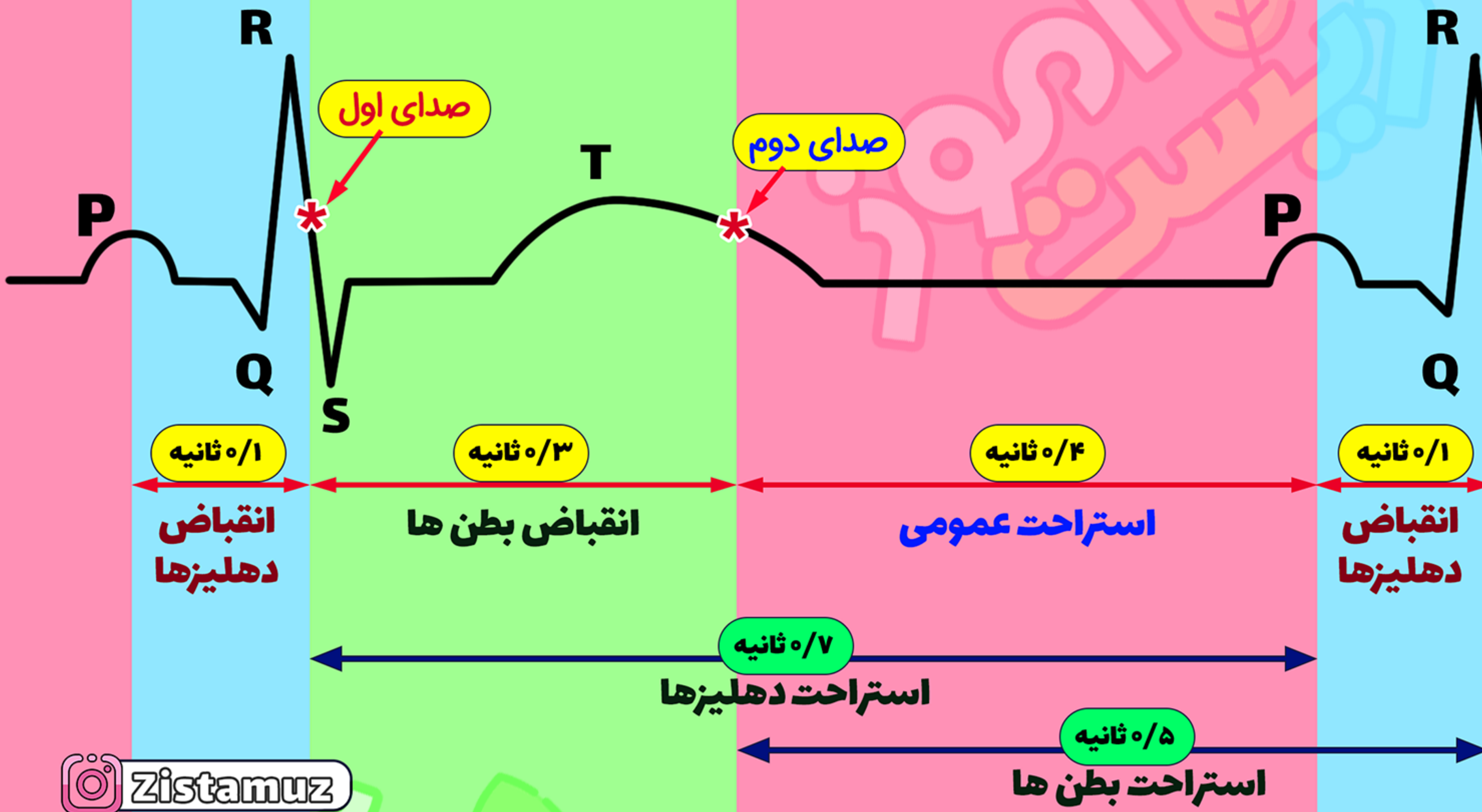
دریچه های سینی باز

دریچه های سینی بسته



دریچه های دهلیزی بطنی بسته
دریچه های سینه باز

دریچه های دهلیزی بطنی باز
دریچه های سینه بسته



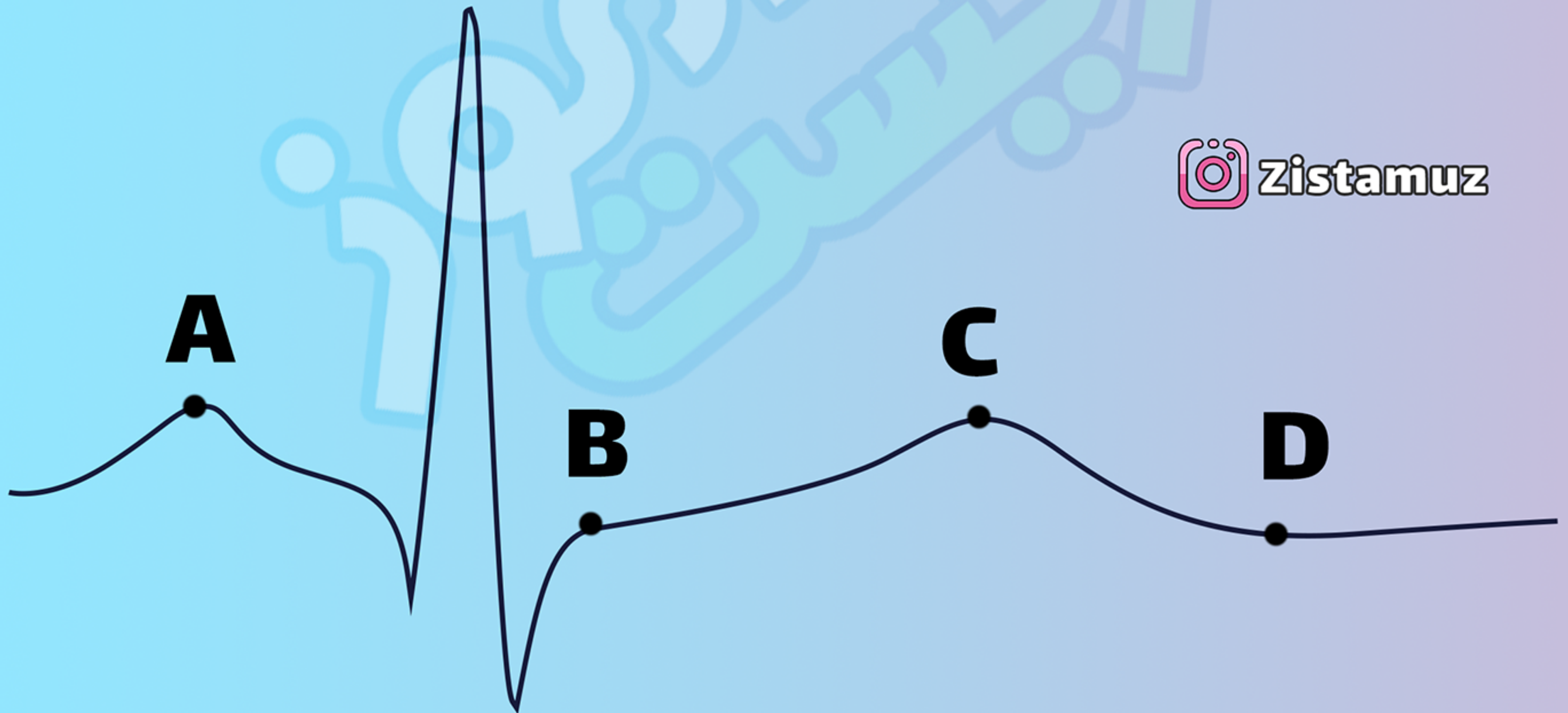
در لحظه صدای اول، بیشترین حجم خون در بطن ها و کمترین حجم خون در دهلیزها قرار دارد.
در لحظه صدای دوم، بیشترین حجم خون در دهلیزها و کمترین حجم خون در بطن ها قرار دارد.

کمی پس از ثبت شدن موج P، انقباض دهلیزها و کمی پس از ثبت موج QRS، انقباض بطن ها رخ می دهد. موج T نیز کمی قبل از پایان یافتن انقباض بطن ها ثبت می شود.

کدام گزینه برای تکمیل عبارت زیر مناسب است؟

قلب در نقطه از نظر وضعیت دریچه سینی، با نقطه شباهت
و از نظر وضعیت دریچه دهلیزی بطنی با نقطه تفاوت دارد.

 Zistamuz



ب) B - D - C

د) C - A - B


الف) A - B - D

ج) C - D - A

پاسخ تست و توضیحات آن در اسلاید بعد نوشته شده
ولی قبل از مشاهده پاسخ کمی فکر کنید!

نقاط A و D در مرحله استراحت عمومی واقع شده اند پس دریچه های سینه بسته و دریچه های دهلیزی بطنی باز اند.

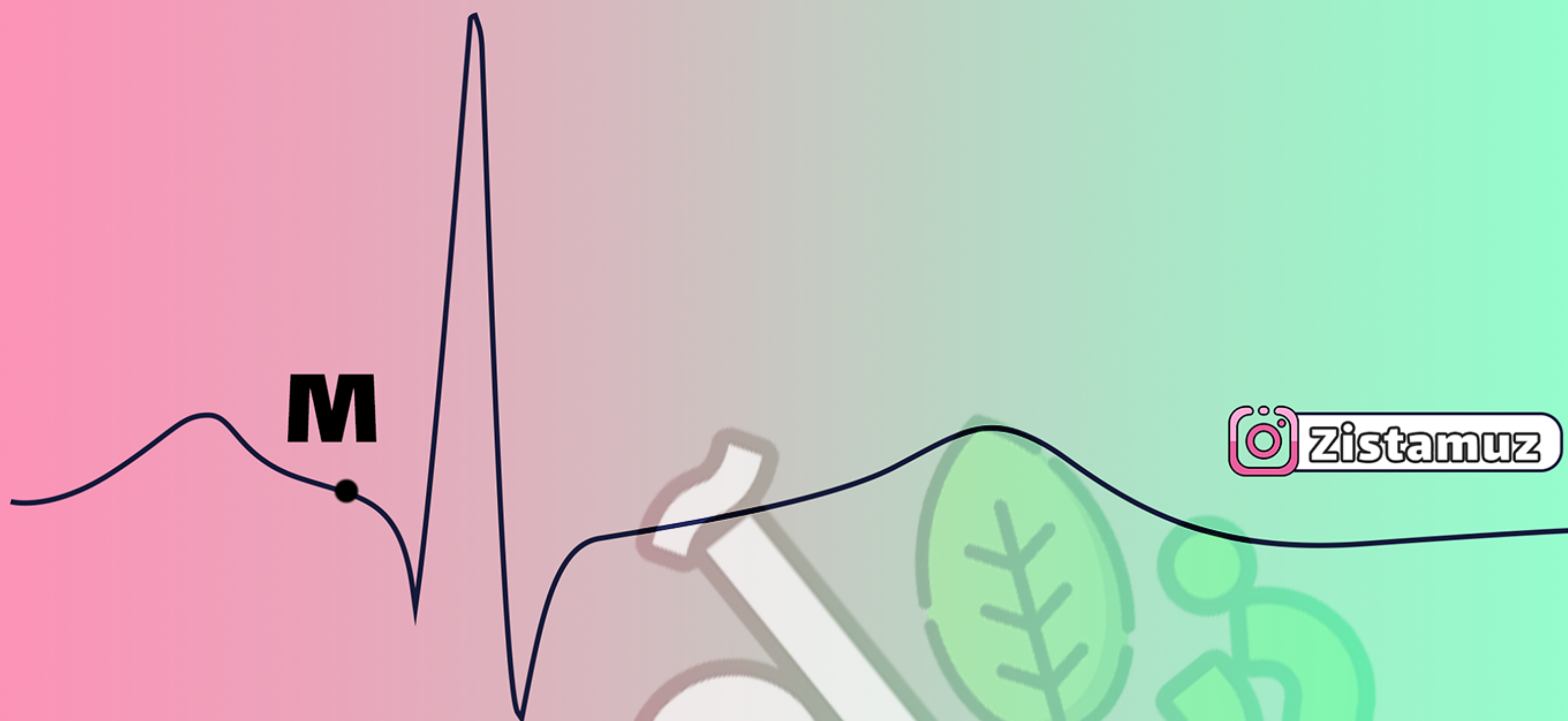
نقاط B و C در مرحله انقباض بطن ها واقع شده اند پس دریچه های سینه باز و دریچه های دهلیزی بطنی بسته اند.



پس نقاط A و D از نظر وضعیت سینه به هم شبیه اند و از نظر وضعیت دهلیزی بطنی با C و B متفاوت اند.

پاسخ صحیح، گزینه ج می شود. (تست 155 کنکور تجربی 1401)

در نقطه ای از منحنی نوار قلب زیر که با حرف M نشان داده شده است،



 Zistamuz

الف) تمامی حفره های قلب در حال استراحت اند.

ب) همه دریچه هایی که از سه قطعه تشکیل شده اند، بسته اند.

ج) دهلیزها خود را برای انقباض آماده می کنند.

د) مانعی برای خروج خون از بطن چپ وجود دارد.

جوابشو زیر همین پست کامنت کن ...